


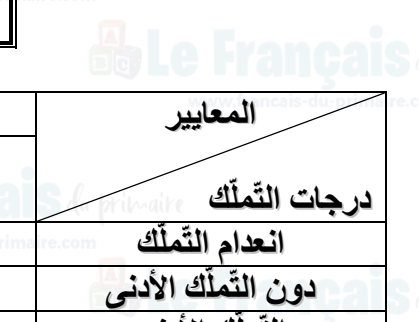


الاسم: اللقب: العدد الرتبي:	التقييم الثلاثي الثالث في مادة الإنتاج الكتابي الدرجة الأولى / السنة الثانية التوقيت: 30 دقيقة السنة الدراسية:	Le Français du primaire www.francais-du-primaire.com
---	--	---

الأنشطة		المعايير																													
<p>Le Français du primaire www.francais-du-primaire.com</p> <p>السند: يَوْمَ الْأَحَدِ خَرَجَ زِيَادٌ لِيَلْعَبَ بِالْكُرَةِ مَعَ أَصْدِقَائِهِ فِي سَاحَةِ الْحَيِّ. أَتَابِعُ مَا قَامَ بِهِ الْأَصْدِقَاءُ مَعْبَرًا عَنْ كُلِّ مَشْهَدٍ بِجُمْلَةٍ.</p>																															
<p>.....</p> <p>.....</p>		<p>1 معك</p> <table border="1"> <tr> <td></td> <td></td> <td></td> </tr> </table>																													
<p>.....</p> <p>.....</p>		<p>2 معك</p> <table border="1"> <tr> <td></td> <td></td> <td></td> </tr> </table>																													
<p>.....</p> <p>.....</p>		<p>3 معك</p> <table border="1"> <tr> <td></td> <td></td> <td></td> </tr> </table>																													
<p>.....</p> <p>.....</p>		<p>4 معك</p> <table border="1"> <tr> <td></td> <td></td> <td></td> </tr> </table>																													
<p>جدول إسناد الأعداد</p>																															
<table border="1"> <thead> <tr> <th rowspan="2">معايير التميّز</th> <th colspan="3">معايير الحد الأدنى</th> <th rowspan="2">المعايير</th> </tr> <tr> <th>مع 4</th> <th>مع 3</th> <th>مع 2</th> <th>مع 1</th> </tr> </thead> <tbody> <tr> <td>0</td> <td>0</td> <td>0</td> <td>0</td> <td>انعدام التّمكّ</td> </tr> <tr> <td>2</td> <td>1.5</td> <td>2</td> <td>1.5</td> <td>دون التّمكّ الأدنى</td> </tr> <tr> <td>3</td> <td>3</td> <td>4</td> <td>3</td> <td>التّمكّ الأدنى</td> </tr> <tr> <td>5</td> <td>4.5</td> <td>6</td> <td>4.5</td> <td>التّمكّ الأقصى</td> </tr> </tbody> </table>	معايير التميّز	معايير الحد الأدنى			المعايير	مع 4	مع 3	مع 2	مع 1	0	0	0	0	انعدام التّمكّ	2	1.5	2	1.5	دون التّمكّ الأدنى	3	3	4	3	التّمكّ الأدنى	5	4.5	6	4.5	التّمكّ الأقصى		
معايير التميّز		معايير الحد الأدنى				المعايير																									
	مع 4	مع 3	مع 2	مع 1																											
0	0	0	0	انعدام التّمكّ																											
2	1.5	2	1.5	دون التّمكّ الأدنى																											
3	3	4	3	التّمكّ الأدنى																											
5	4.5	6	4.5	التّمكّ الأقصى																											