

الاسم :

اللقب :

العدد الرتبي :

تقييم المكتسبات
في مادة الرياضيات
الدرجة الأولى / السنة الثانية
التوقيت: 30 دق
سبتمبر 2024


Le Français du primaire
www.francais-du-primaire.com

الأنشطة

المعايير

السند 1

خرج ريان ورانية إلى الضيعة لقطف بعض الثمار .
حمل ريان سلة بيده اليمنى وحملت رانية سلة بيدها اليسرى .



التعليمية 1: أرسم السلتين:

.....
.....
.....

مع 4

مع 4

السند 2

بدأ الطفلان يجمعان الثمار . فقطف ريان 23 تفاحة و 25 إجاصة
التعليمية 2: ما هو عدد الثمار التي قطفها ريان؟
(أنجز العملية أفقيا وعموديا)

$$\begin{array}{r} + \\ \hline = \end{array}$$

$$\cdot = \cdot + \cdot$$

مع 1

مع 2

التعليمية 3 أرتب أعداد العملية من الأصغر إلى الأكبر.

.....

السند 3

أما رانية فقد قطفت 16 تفاحة و 32 إجاصة .
التعليمية 4 : ما هو عدد الثمار التي قطفها رانية؟
(أنجز العملية أفقيا وعموديا)

$$\begin{array}{r} + \\ \hline = \end{array}$$

$$\cdot = \cdot + \cdot$$

مع 2

مع 1

Le Français du primaire


www.francais-du-primaire.com

التعليمية 5: أرتب أعداد العملية تنازليا.

.....

السنة 4

تعب الطفلان فجلسا يستريحان تحت شجرة زيتون ، رأى ريان بجانبه أشياء عديدة.



التعليمية 6: ألون ما يوجد تحت الشجرة .

السنة 5

بدأ الطفلان يجمعان حبات الزيتون.

عدّ ريان 42 حبة وعدّت رانية 32 حبة.

التعليمية 7: أبحث عن عدد الحبات كلها

(أنجز العملية أفقيا وعموديا)

$$\begin{array}{r} + \\ \hline = \end{array}$$

$$\begin{array}{r} + \\ \hline = \end{array}$$

التعليمية 8: أرتب أعداد العملية تصاعديا.

.....

السنة 6

قبل الغروب عاد الطفلان بالقفتين فأعطاهما الجد هذه القطع النقدية



.....

التعليمية 9: احسب المبلغ كاملا :

$$\begin{array}{r} + \\ + \\ \hline = \end{array}$$

السنة 7

مع 2 ب

مع 2 أ

مع 4

مع 1

مع 2 ب

مع 2 أ

مع 3

في الصباح قصد الطفلان دكان العم محمود لشراء بعض الأشياء فوجدا اللائحة التالية:

علكة	شكلاطة	حلوى
25 مي	90 مي	32 مي

التعليمة 10: أمثل ثمن الشكلاطة ب 3 قطع نقدية:

90 مي

مع 3

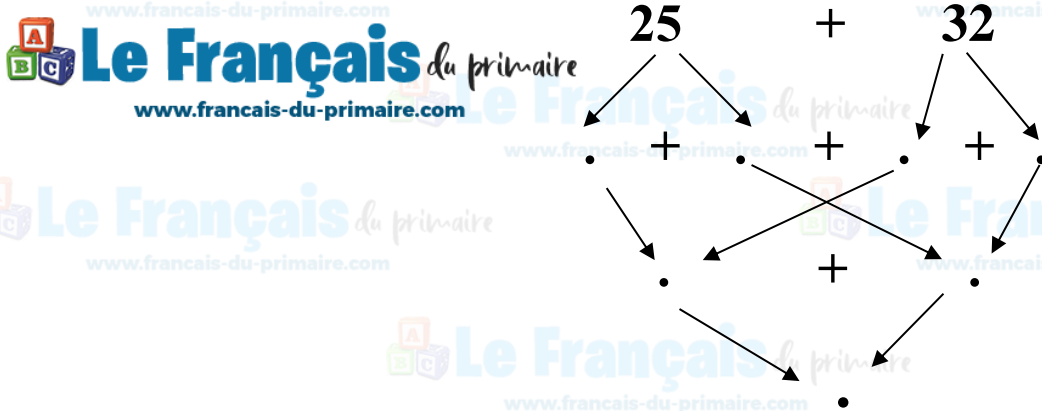
التعليمة 11: أمثل ثمن العلكة بقطعيتين نقديتين:

25 مي

مع 3

السنة 8: شري الطفلان حلوى وعلكة.

التعليمة 12: أحسب المبلغ اللازم لشراء الحلوى والعلكة مستعينا بشجرة الحساب ثم أكتب إجابة لفظية.



مع 5

الإجابة اللفظية

التعليمة 13: أضع العلامة (x) في الإطار المناسب.

مع 5

	نعم ، يستطيع الطفلان شراء الحلوى والعلكة
	لا يستطيع الطفلان شراء الحلوى والعلكة

مع 5

جدول إسناد الأعداد

معايير التمييز	معايير الحد الأدنى					مستويات التملك
	مع 4	مع 3	مع 2	مع 2أ	مع 1	
مع 5	0	0	0	0	0	انعدام التملك (-)
0	0	0	0	0	0	انعدام التملك (-)
2	1	1	1	1	1	تملك دون الأدنى (+)
3	2	2	2	2	2	تملك أدنى (++)
5	3	3	3	3	3	تملك أقصى (+++)

 **Le Français** du primaire

www.francais-du-primaire.com

 **Le Français** du primaire
www.francais-du-primaire.com

 **Le Français** du primaire
www.francais-du-primaire.com

 **Le Français** du primaire
www.francais-du-primaire.com

 **Le Français** du primaire
www.francais-du-primaire.com

 **Le Français** du primaire
www.francais-du-primaire.com

 **Le Français** du primaire
www.francais-du-primaire.com

 **Le Français** du primaire
www.francais-du-primaire.com

 **Le Français** du primaire
www.francais-du-primaire.com

 **Le Français** du primaire
www.francais-du-primaire.com

 **Le Français** du primaire
www.francais-du-primaire.com

 **Le Français** du primaire
www.francais-du-primaire.com

 **Le Français** du primaire
www.francais-du-primaire.com

 **Le Français** du primaire
www.francais-du-primaire.com

 **Le Français** du primaire
www.francais-du-primaire.com