

الاسم :
اللقب :
العدد الرتبي :






التقييم الثلاثي الثالث
في مادة الرياضيات
الدرجة الثانية / السنة الثالثة
التوقيت: 60 دق
السنة الدراسية:

Le Français du primaire

المعايير

الأنشطة
السند ع 1 دد :
www.francais-du-primaire.com

مرض سليم فقّر فراس وأحمد وأمين زيارته في منزله إثر خروجهم من المدرسة وشراء هدايا متنوعة فجمعوا هذه المبالغ :

أمين	أحمد	فراس
		     
7500 مي	9500 مي	

مع 3

التعليمة 1-1: احسب مبلغ فراس وأحمد وأمين

السند ع 2 دد :

للوصول إلى منزل الصديق اتبع الأطفال المسلك التالي :



مع 13

التعليمة 1-2: أكمل الجدول التالي :

1 هم	40 دكم	10 دكم و 3 م
..... م م م

السند ع 3 دد: وصل الأطفال المغارة فاشترى كل واحد ما يلي :

مشتريات أمين	مشتريات أحمد	مشتريات فراس
3 مجلات بـ 1250 الواحدة وأقلام بـ 1500 مي	6 قطع مرطبات بـ 850 الواحدة ولوحة بـ 3 د	5 قصص بـ 710 مي القصّة الواحدة . سيارة صغيرة بـ 2570 مي

مع 1

مع 2

مع 2 أ

Le Français du primaire
www.francais-du-primaire.com

التعليمة 1-3: احسب ثمن مشتريات فراس:

.....
.....



التعليمة 2-3: احسب ثَمَنَ مُشْتَرِيَاتِ أَحْمَدَ

.....
.....
.....

مع 1

مع 2

مع 2 أ

التعليمة 3-3: احسب ثَمَنَ مُشْتَرِيَاتِ أَمِينِ:

.....
.....
.....

مع 1

مع 2

مع 2 أ

السَّنَد 4-4: أَرَادَ كُلُّ طِفْلِ مَعْرِفَةَ الْمَبْلَغِ الْمُنْبَقِيِّ لَهُ .

التعليمة 1-4: احسبُ الْمَبْلَغَ الْمُنْبَقِيَّ لِفِرَاسِ:

.....
.....
.....

مع 1 أ

مع 2 ب

مع 1 أ

مع 2 ب

التعليمة 2-4: احسبُ الْمَبْلَغَ الْمُنْبَقِيَّ لِأَحْمَدِ :

.....
.....
.....

التعليمة 3-4: احسبُ الْمَبْلَغَ الْمُنْبَقِيَّ لِأَمِينِ :

.....
.....
.....

مع 1 أ

مع 2 ب

السَّنَد 5-5: أَرَادَ الْأَطْفَالُ شِرَاءَ قَارورَةِ

عَطْرِ بِ 6500 مِي بِمَا يَتَبَقَّى لَدِيهِمْ مِنْ مَالِ .

أَطْرَحُ سؤَالًا مَنَاسِبًا لِلوَضْعِيَّةِ وَأَجِيبُ عَنْهُ :

السُّؤَالُ :

الجواب :

--	--	--

مع 5



